

تمارين للتدريب للصف الثاني

اكتشف العلاقة في كل سؤال وأكمل:

.1

3		3		3		3		
4	7	10	13	16	19	22	25
	11		23		35		47	

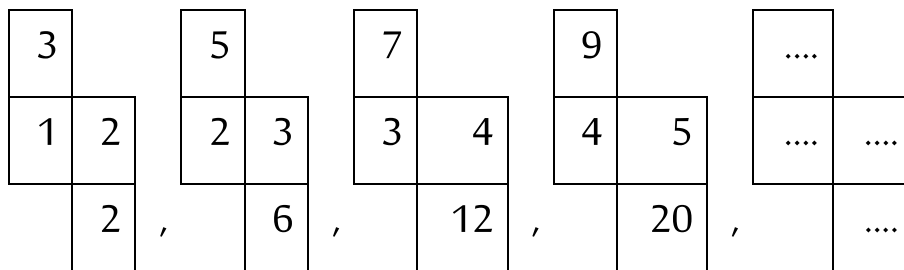
.2

4		6		8		10		12		...	
1	5	6	12	13	21	22	32	33
	6		18		34		54		...		106

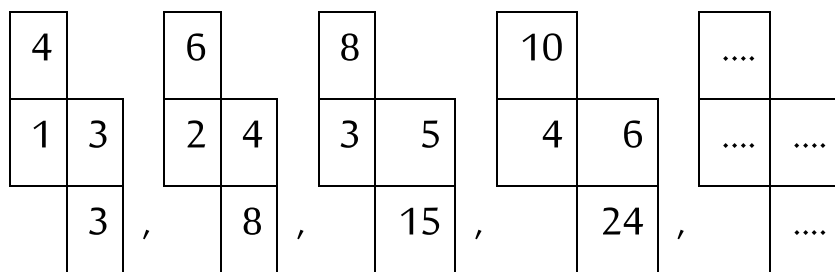
.3

2		4		6		8		
11	13	15	19	21	27	29	37
	24		34		48		66		...		114

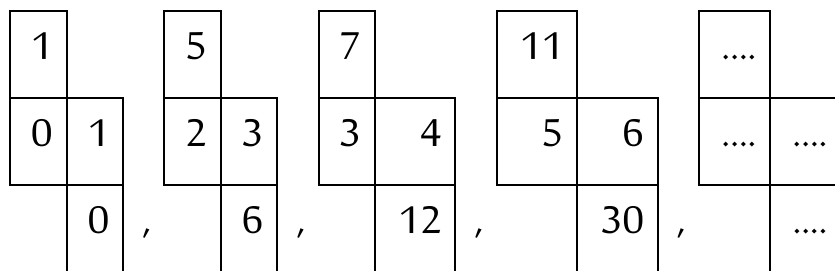
.4



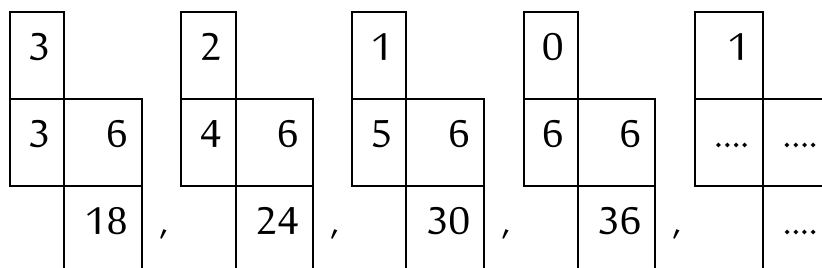
.5



.6

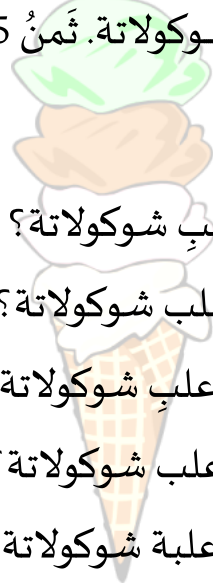


.7



مسائل شراء

يبيع سالم نوعًا واحدًا من البوظة، ونوعًا واحدًا من الشوكولاتة. ثمن 5 حبات من البوظة 12 شاقلاً. ثمن 3 علب شوكولاتة 14 شاقلاً.



- أ. كم يدفع شخصٌ عندما يشتري 5 حباتِ بوظة و 3 علبِ شوكولاتة؟
ب. كم يدفع شخصٌ عندما يشتري 5 حباتِ بوظة و 9 علبِ شوكولاتة؟
ج. كم يدفع شخصٌ عندما يشتري 10 حباتِ بوظة و 3 علبِ شوكولاتة؟
د. كم يدفع شخصٌ عندما يشتري 10 حباتِ بوظة و 6 علبِ شوكولاتة؟
هـ. كم يدفع شخصٌ عندما يشتري 5 حباتِ بوظة و 15 علبة شوكولاتة؟
و. كم يدفع شخصٌ عندما يشتري 15 حبة بوظة و 3 علبِ شوكولاتة؟
ز. كم يدفع شخصٌ عندما يشتري 15 حبة بوظة و 9 علبِ شوكولاتة؟
ح. اشترى سامي 15 حبة بوظة و 12 علبة شوكولاتة. أعطى سامي للبائع سالم 100 شاقلاً. كم شاقلاً يرجع سالم لسامي؟